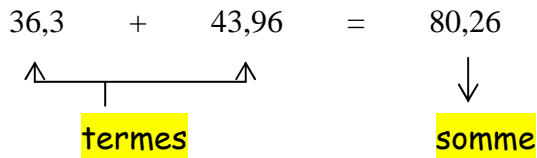


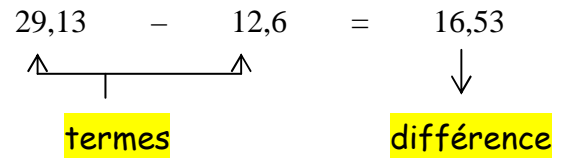
Exercice n°1 :

Cours : Complète les schémas suivants avec le bon vocabulaire :

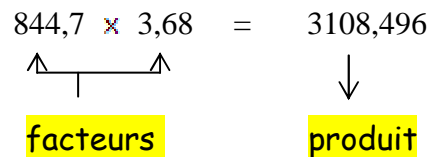
Addition :



Soustraction :



Multiplication :



Exercice n°2 :

Pose et Effectue les opérations suivantes :

A = 92,25 + 27,8

B = 84,8 - 1,92

C = 26,7 × 3,9

$ \begin{array}{r} 92,25 \\ + 27,80 \\ \hline 120,05 \end{array} $	$ \begin{array}{r} 84,80 \\ - 1,92 \\ \hline 82,88 \end{array} $	$ \begin{array}{r} 26,7 \\ \times 3,9 \\ \hline 2403 \\ 801 \cdot \\ \hline 104,13 \end{array} $
---	---	--

Exercice n°3 :

Calcule de manière astucieuse :

D = 50 × 2,34 × 2

D = 50 × 2 × 2,34

D = 100 × 2,34

D = **2,34**