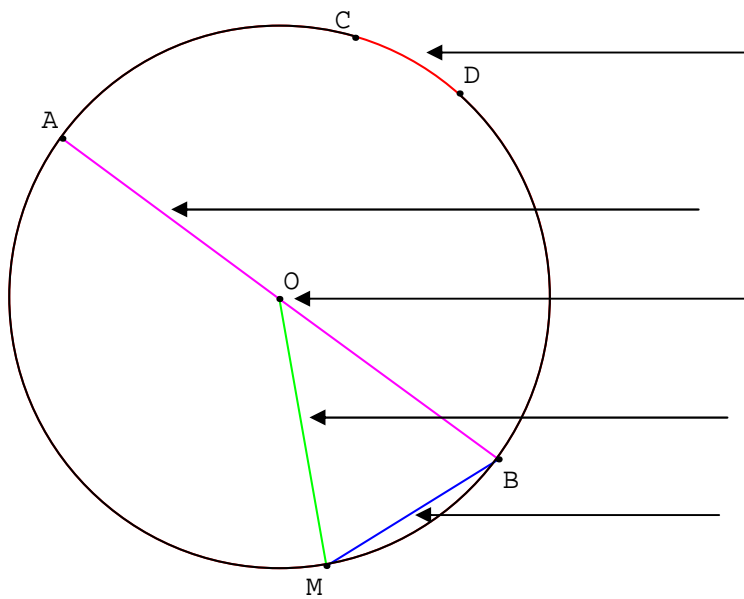


Exercice n°1 : (2,5 points)

Cours : complète le schéma suivant à l'aide du vocabulaire du cours :



\widehat{CD} est **un arc** de cercle.

[AB] est **un diamètre** du cercle.

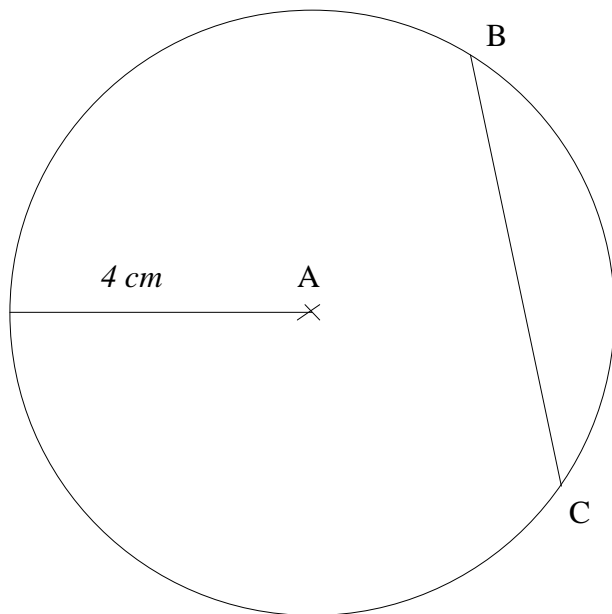
O est **le centre** du cercle.

[OM] est **un rayon** du cercle.

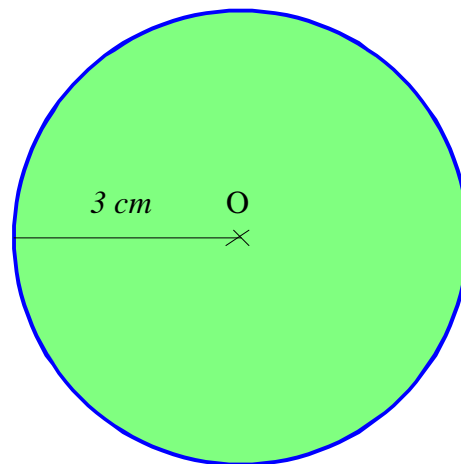
[MB] est **une corde** du cercle.

Exercice n°2 : 7,5 points)

1. Tracer un cercle de centre A et de rayon 4 cm puis tracer une corde [BC]



2. **VERSION 1**



2. **VERSION 2**

